

Unitat 2. Un planeta de terra, aire i aigua

Nom: _____ Curs: _____ Data: _____

Així és la Terra

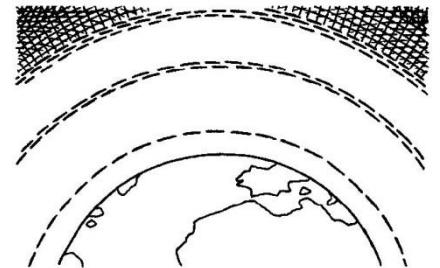
1. Quines de les afirmacions següents són correctes? Marca-les.

- La Terra està lleugerament aplanada pels pols.
- La hidrosfera està formada únicament per l'aigua dels mars.
- La geosfera és la capa sòlida de la Terra.
- Les capes de la geosfera són: escorça i mantell.
- Sense l'atmosfera la vida a la Terra seria impossible.
- Les capes de l'atmosfera són totes iguals,

2. Escriu per orde les capes de l'atmosfera: de la més propera a la Terra a la més llunyana.

mesosfera troposfera estratosfera

1. _____
2. _____
3. _____



Unitat 2. Un planeta de terra, aire i aigua

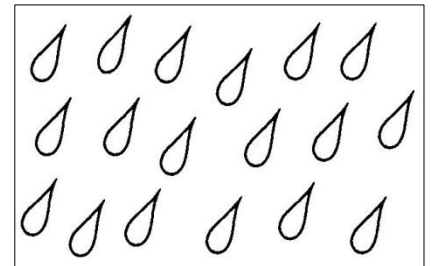

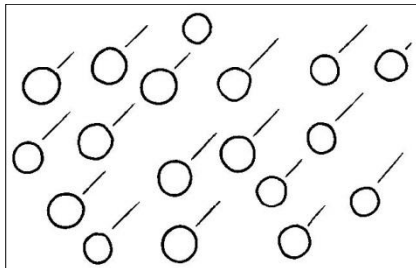
Nom: _____ Curs: _____ Data: _____


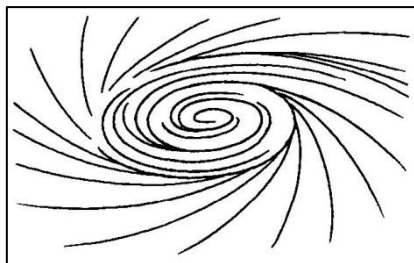
L'atmosfera

3. Què és el temps atmosfèric? Marca.

- El temps atmosfèric determina com està l'atmosfera en un lloc del planeta durant un any.
- El temps atmosfèric determina com està l'atmosfera en un lloc del planeta en un moment concret.
- Els elements climàtics més importants són: fred, pluja i aire.
- Els elements climàtics més importants són: temperatura, vent, precipitacions i humitat.

4. Escriu davall de cada imatge el tipus de fenomen meteorològic que representa.






Unitat 2. Un planeta de terra, aire i aigua

Nom: _____ Curs: _____ Data: _____

L'aigua de la Terra

5. Quin tipus d'aigua és? Escriu «dolça» o «salada» on corresponga.



6. Uneix amb fletxes els llocs amb el tipus d'aigua que tenen.


- aigua dolça
- aigua salada
- llacs
- rius
- mars
- oceans
- gel polar

Unitat 2. Un planeta de terra, aire i aigua

Nom: _____ Curs: _____ Data: _____

Aigua canviant

7. Escriu davall de cada imatge l'estat en què està l'aigua.



8. Què necessita l'aigua en cada cas? Uneix amb fletxes.

- Per a passar de gel a aigua líquida.
 - Per a passar d'aigua líquida a sòlida.
 - Per a passar d'aigua líquida a vapor d'aigua.
 - Per a passar de vapor d'aigua a aigua líquida.
- fred
 - calor

Unitat 2. Un planeta de terra, aire i aigua

Nom: _____ Curs: _____ Data: _____

La importància de l'aigua

9. Quins usos donem a l'aigua? Escriu on corresponga.

agrícola

domèstic

industrial

- L'ús que fem a casa per a beure, netejar i cuinar és un ús _____.
- L'ús que se li dona a l'aigua als camps per a regar és un ús _____.
- L'ús que se li dona a l'aigua a les fàbriques per a produir refrescos és un ús _____.

10. Què podem fer per a estalviar i no malgastar aigua? Uneix amb fletxes.

malgastar

estalviar

