


Unitat 3. La Terra en paper

Nom: _____ Curs: _____ Data: _____

El paisatge

1. De quins dos aspectes és resultat la forma del paisatge? Marca.

- L'acció dels fenòmens naturals.
- La qualitat del terreny.
- Les inclemències del temps.
- Les activitats humanes.
- L'acció dels éssers vius.



2. Quins elements pertanyen al paisatge d'interior i quins al de costa? Uneix amb fletxes.

- muntanya •
 - golf •
 - illa •
 - altiplà •
 - penya-segat •
 - península •
 - vall •
 - platja •
 - serra •
 - cap •
- paisatge d'interior
 - paisatge de costa

Unitat 3. La Terra en paper

Nom: _____ Curs: _____ Data: _____

3. Marca V si és vertader i F si és fals.

- El paisatge natural és el que no ha sigut modificat en absolut.
- El paisatge humanitzat és molt natural.
- El paisatge natural ha sigut modificat pels fenòmens naturals.
- El paisatge humanitzat ha sigut modificat per les persones.
- L'agricultura ecològica és un exemple de paisatge natural.

4. Acoloreix de blau les accions que beneficien el paisatge i de roig les que el perjudiquen.

Crear zones protegides.

Prohibir els abocadors incontrolats.

Canviar el llit dels rius.

Desforestar

Tirar el fem als contenidors.

Construir prop de la costa.

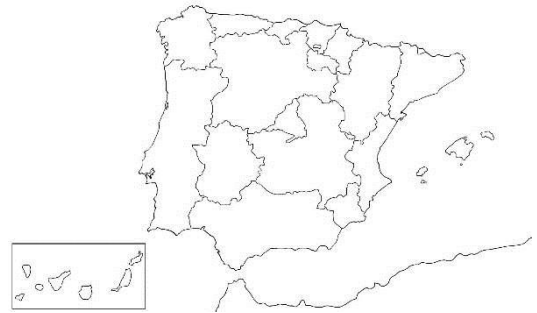
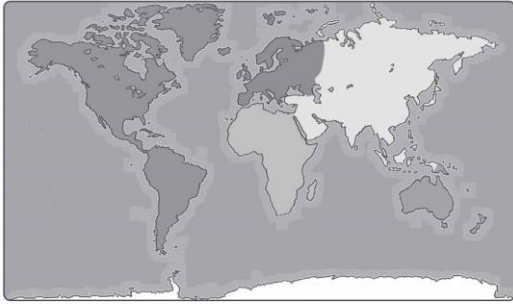
Explotar en excés els recursos naturals.

Reforestar

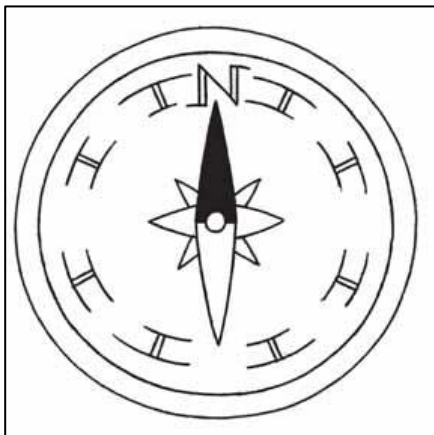
Unitat 3. La Terra en paper

Nom: _____ Curs: _____ Data: _____

5. Encercla el mapapundi.



6. Completa els punts cardinals i escriu el nom davall de cada dibuix.



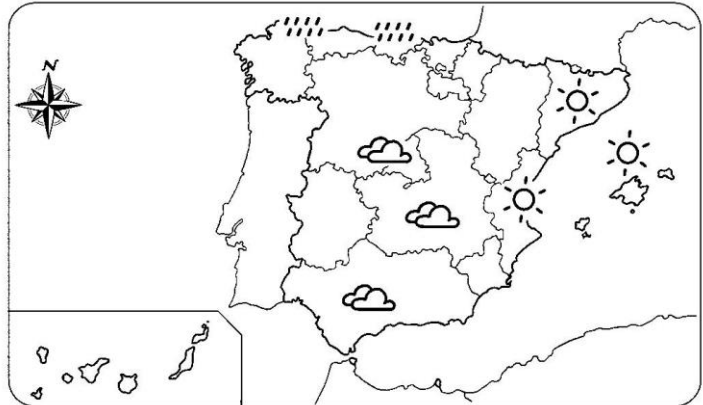


Unitat 3. La Terra en paper

Nom: _____ Curs: _____ Data: _____

7. Com s'anomena la ciència que estudia com representar la superfície de la Terra? Marca.

- Geografia
- Planografia
- Cartografia
- Mapística



8. Posa una creu en la casella que corresponga.

	Mapa físic	Mapa temàtic
Elevacions i depressions del terreny		
Organització política del territori		
Rius, llacs i llacunes		
Clima.		
Distribució de la població		
Zones planes del terreny		
Zones contaminades d'un territori		